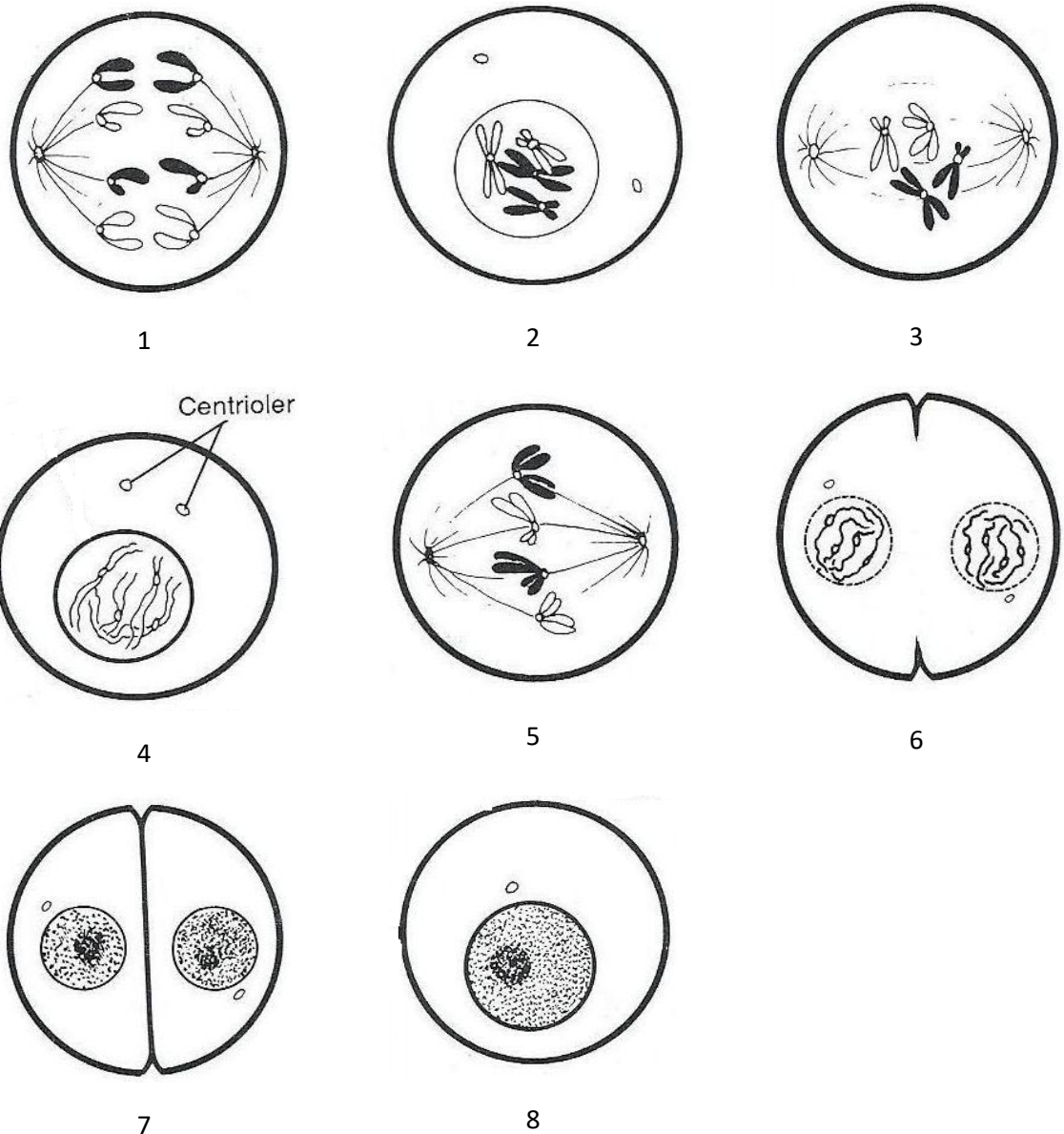


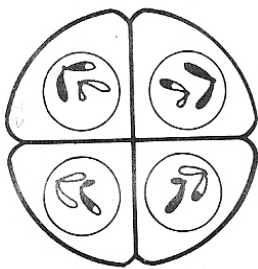
Opgave 1: Mitose

- Mitosen – find den rigtige rækkefølge af mitosens stadier
- Beskriv hvad der sker under mitosen
- Hvor mange kromosomer er der i hver af de to datterceller efter delingen?
- Beskriv hvordan de to nye datterceller er i forhold til hinanden m.h.t. arvemateriale
- Nævn hvor i kroppen mitosen foregår og beskriv hvornår mitoser finder sted

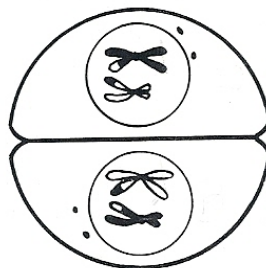


Opgave 2: Meiose

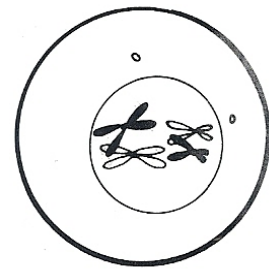
- Meiosen – find den rigtige rækkefølge af meiosens stadier
- Beskriv hvad der sker under den meiotiske celledeling
- Hvor mange kromosomer er der i de fire celler efter delingen?
- Hvordan er de fire nye datterceller genetisk?
- Beskriv hvor i kroppen foregår meiosen og hvornår den foregår hos henholdsvis mænd og kvinder



1



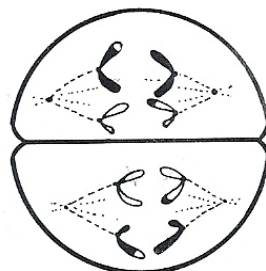
2



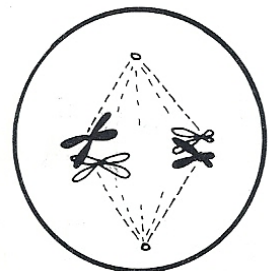
3



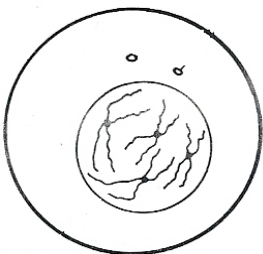
4



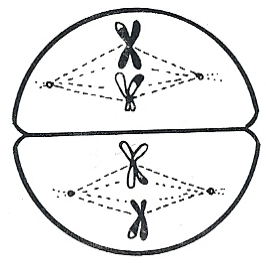
5



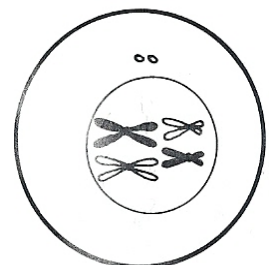
6



7



8



9